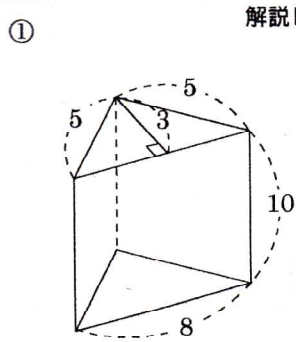
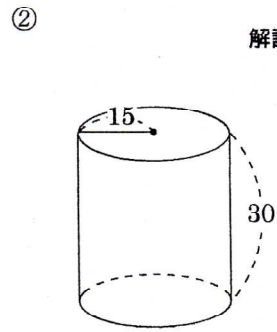


名前	解説	中 1	空間図形			%	mistake	月
			表面積と体積まとめ-④			正		
					問	36	日	

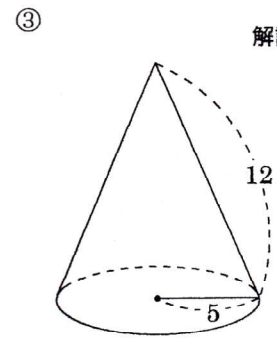
問題1 次の問いに答えよ



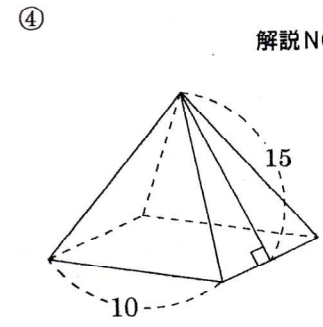
解説NO14 側面積
180
底面積
12
表面積
204



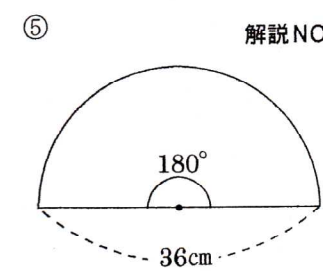
解説NO15 側面積
900π
底面積
225π
表面積
1350π



解説NO16 側面積
60π
~~底面積~~ 表面積
85π
~~表面積~~ 17π
150



解説NO17 側面積
300
底面積
100
表面積
400

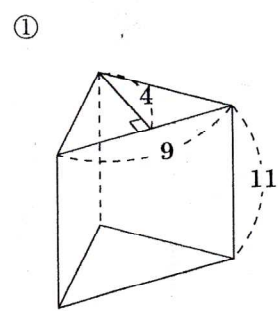


解説NO13 弧の長さ
18π
おうぎ形の面積
162π

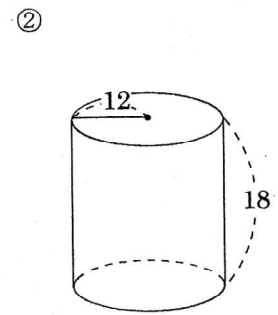
⑥ 半径が12cm, 弧の長さが5π cmのおうぎ形の中心角
解説NO13
75°

問題2 次の問いに答えよ。

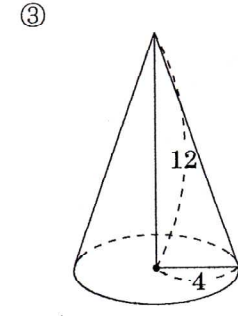
表面積と体積④



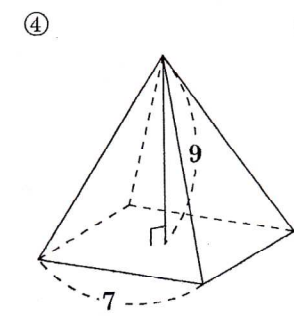
解説NO18 底面積
18
体積
198



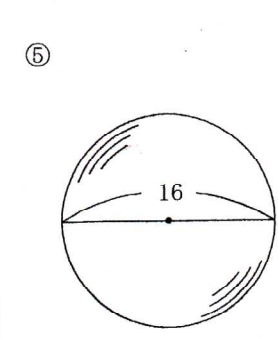
解説NO18 底面積
144π
体積
~~2592π~~
2592π



解説NO18 底面積
16π
体積
64π



解説NO18 底面積
49
体積
147



解説NO22 表面積
256π
体積
2048π/3